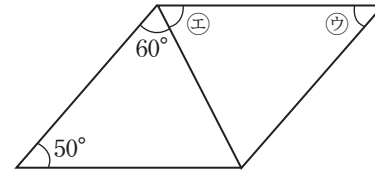
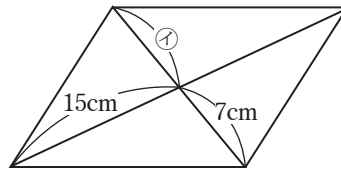
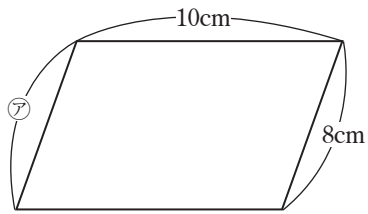
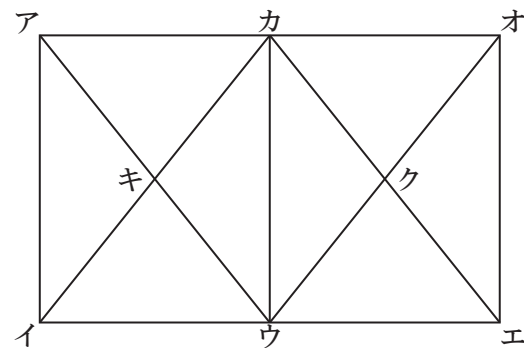


- 4 下の図は平行四辺形です。㉗, ㉙の長さと, ㉕, ㉖の角度をそれぞれ求めなさい。(2点×4)

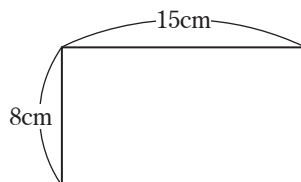


- 5 右の図は, 形も大きさも同じである2つの長方形アイウカ, カウエオを合わせたものです。これについて, 次の問いに答えなさい。(3点×2)
- (1) 四角形カキウクは何という四角形ですか。

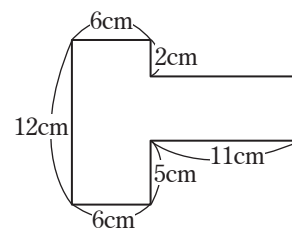


- (2) 図の中に, 台形は何こありますか。

- 6 次の図形の面積を求めなさい。ただし, (2) の角はすべて直角です。(3点×3)
- (1) 長方形



(2)



- (3) まわりの長さが36cmの正方形